

Deutsche Lebens-Rettungs-Gesellschaft

Landesverband Rheinland-Pfalz e.V.

Bergstraße 18

56332 Lehmen

<https://rheinland-pfalz.dlrg.de>



Deutsche Lebens-Rettungs-
Gesellschaft e.V.

Lösungsbogen DLRG-Bootsführerschein A (Amtlicher Teil)

Bearbeitungszeit max. 45 Minuten.

Bei jeder Frage ist nur eine Antwortmöglichkeit richtig!

Anzahl Fragen: **30 (davon müssen 23 richtig beantwortet sein)**

- 138 **Welchen Sichtwinkel und welche Farben haben die vorgeschriebenen Lichter an Bord?**
- Topplicht: weiß 112,5°, Hecklicht 225° weiß, Seitenlichter: Backbord rot und Steuerbord grün, jeweils 112,5°.
 - Topplicht: weiß 225°, Hecklicht 112,5° weiß, Seitenlichter: Backbord rot und Steuerbord grün, jeweils 135°.
 - Topplicht: weiß 225°, Hecklicht 135° weiß, Seitenlichter: Backbord rot und Steuerbord grün, jeweils 112,5°.
 - Topplicht: weiß 135°, Hecklicht 225° weiß, Seitenlichter: Backbord rot und Steuerbord grün, jeweils 112,5°.

114 **Was bedeutet dieses Tafelzeichen an Brücken?**



- Empfohlene Durchfahrt nur in eine Richtung.
- Durchfahrt nur neben der Tafel erlaubt.
- Empfohlene Durchfahrt mit Gegenverkehr.
- Empfohlene Durchfahrt ohne Gegenverkehr.

97 **Welche Zeichen begrenzen die Fahrinne zum rechten Ufer?**

- Rote Spierentonnen oder Schwimmstangen.
- Grüne Spitztonnen oder Schwimmstangen.
- Grüne Spierentonnen oder Schwimmstangen.
- Rote Stumpftonnen oder Schwimmstangen.

115 **Was bedeuten diese Tafelzeichen an Brücken?**



- Empfohlene Durchfahrt ohne Gegenverkehr.
- Empfohlene Durchfahrt mit Gegenverkehr.
- Durchfahrt nur außerhalb der beiden Tafeln erlaubt.
- Empfohlene Durchfahrt in beide Richtungen.

144 **Wie lautet eine der drei Grundregeln der Binnenschiffahrtsstraßen-Ordnung, nach denen Kleinfahrzeuge unter Segel einander ausweichen?**

- Wenn sie den Wind von derselben Seite haben, muss das leeseitige dem luvseitigen ausweichen.
- Wenn sie den Wind nicht von derselben Seite haben, muss das Segelfahrzeug mit Wind von Steuerbord dem Segelfahrzeug mit Wind von Backbord ausweichen.
- Wenn sie den Wind von derselben Seite haben, müssen beide Fahrzeuge ausweichen.
- Wenn sie den Wind nicht von derselben Seite haben, muss das Segelfahrzeug mit Wind von Backbord dem Segelfahrzeug mit Wind von Steuerbord ausweichen.


160 **Was bedeuten vier kurze Töne?**

- Maschine geht rückwärts.
- Achtung!
- Fahrzeug ist manövrierunfähig.
- Überholen nicht möglich.

61 **Wie ist ein enges Gewässer zu befahren, wenn man sich am Ufer festgemachten Fahrzeugen nähert?**

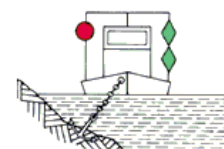
- Verringerung der Geschwindigkeit, um schädlichen Sog und Wellenschlag zu vermeiden.
- Auf Höhe der festgemachten Fahrzeuge aufstoppen und überprüfen, dass kein Dritter behindert oder geschädigt wird.
- Beibehaltung der Geschwindigkeit, um durch Gleitfahrt schädlichen Sog und Wellenschlag auszuschließen.
- Verringerung der Geschwindigkeit und nötigenfalls vom Rechtsfahrgebot abweichen.

148 **Was bedeuten diese Sichtzeichen?**



- Festgefahrenes oder gesunkenes Fahrzeug. Vorbeifahrt an der rot-weißen Seite gestattet; rote Seite gesperrt. Sog und Wellenschlag vermeiden.
- Festgefahrenes oder gesunkenes Fahrzeug. Vorbeifahrt an der roten Seite gestattet; rot-weiße Seite gesperrt. Vorbeifahrt mit unverminderter Geschwindigkeit möglich.
- Festgefahrenes oder gesunkenes Fahrzeug. Vorbeifahrt an der rot-weißen Seite gestattet; rote Seite gesperrt. Vorbeifahrt mit unverminderter Geschwindigkeit möglich.
- Festgefahrenes oder gesunkenes Fahrzeug. Vorbeifahrt an der roten Seite gestattet; rot-weiße Seite gesperrt. Sog und Wellenschlag vermeiden.

150 **Was bedeuten diese Sichtzeichen?**



- Schwimmendes Gerät bei der Arbeit. Vorbeifahrt an der grünen Seite gestattet; rote Seite gesperrt. Sog und Wellenschlag vermeiden.
- Schwimmendes Gerät bei der Arbeit. Vorbeifahrt an der grünen Seite gestattet. Vorbeifahrt an der roten Seite mit unverminderter Geschwindigkeit möglich.
- Schwimmendes Gerät bei der Arbeit. Vorbeifahrt an der roten Seite gestattet; grüne Seite gesperrt.
- Schwimmendes Gerät bei der Arbeit. Vorbeifahrt an der grünen Seite gestattet; rote Seite gesperrt.

3 **Wann ist ein Fahrzeug in Fahrt?**

- Wenn es weder vor Anker liegt noch an Land festgemacht ist noch Fahrt über Grund macht.
- Wenn es weder auf Grund sitzt noch vor Anker liegt noch manövrierbehindert oder manövrierunfähig ist.
- Wenn es weder an Land festgemacht ist noch vor Anker liegt noch Fahrt durchs Wasser macht.
- Wenn es weder vor Anker liegt noch an Land festgemacht ist noch auf Grund sitzt.

241 **Ein Fahrzeug fährt in der Fahrrinne gegen den Strom. Voraus liegt eine grüne Tonne. Auf welcher Fahrrippenseite befindet sich diese Tonne und an welcher Schiffsseite muss diese Tonne passiert werden?**

- Sie befindet sich auf der linken Fahrrippenseite und muss an der Steuerbordseite des Schiffes passiert werden.
- Sie befindet sich auf der rechten Fahrrippenseite und muss an der Backbordseite des Schiffes passiert werden.
- Sie befindet sich auf der linken Fahrrippenseite und muss an der Backbordseite des Schiffes passiert werden.
- Sie befindet sich auf der rechten Fahrrippenseite und muss an der Steuerbordseite des Schiffes passiert werden.

104 **Was bedeuten auf einem stillliegenden Fahrzeug zwei weiße Lichter übereinander?**

- Ein Ankerlieger, der zwei Anker ausgelegt hat.
- Ein Fahrzeug über 135 m.
- Ein Ankerlieger, dessen Anker die Schifffahrt gefährden kann.
- Ein stillliegender Schubverband.

210 **Welches Schallsignal ist zu geben, wenn in einer Notsituation Hilfe gebraucht wird?**

- Wiederholte lange Töne geben oder Gruppen von Glockenschlägen.
- Einen langen Ton geben, vereinzelt Glockenschläge.
- Drei kurze Töne geben, keine Glockenschläge.
- Wiederholte kurze Töne geben, keine Glockenschläge.

102 **Was kennzeichnet eine grün-weiß gestreifte Schwimmstange mit grünem Kegel, Spitze nach oben, oder eine grüne Tonne mit grünweiß gestreiftem Aufsatz mit grünem Kegel, Spitze nach oben?**

- Hindernis an der linken Seite der Wasserstraße.
- Fahrinnenrand an der linken Seite der Wasserstraße.
- Hindernis an der rechten Seite der Wasserstraße.
- Fahrinnenrand an der rechten Seite der Wasserstraße.

163 **Was bedeutet dieses Schallsignal? (- ••)**

- Wenden über Backbord.
- Wenden über Steuerbord.
- Kursänderung nach Steuerbord.
- Kursänderung nach Backbord.

14 **Wie weichen zwei Motorboote aus, die sich auf entgegengesetzten Kursen nähern?**

- Es muss das leewärtige Fahrzeug dem luvwärtigen Fahrzeug ausweichen.
- Jedes Fahrzeug muss seinen Kurs nach Steuerbord ändern.
- Es muss das luvwärtige Fahrzeug dem leewärtigen Fahrzeug ausweichen.
- Jedes Fahrzeug muss seinen Kurs nach Backbord ändern.

133 **Ein Kleinfahrzeug unter Segel fährt nachts auf einer Binnenschifffahrtsstraße und führt ein weißes Rundumlicht im Topp. Wie wird zweckmäßigerweise die weiße Handlampe, die bei Annäherung anderer Fahrzeuge gezeigt werden muss, benutzt?**

- Die eigenen Segel anleuchten.
- Die Handlampe nach oben halten.
- Das Wasser anleuchten.
- Das heranfahrende Fahrzeug anleuchten.

18 **Welche Bedeutung hat folgendes Tafelzeichen?**

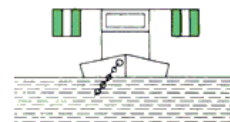


- Überholverbot; mit Gegenverkehr muss gerechnet werden.
- Begegnungsverbot an einer Engstelle.
- Überholverbot für alle Fahrzeuge.
- Begegnungsverbot für Fahrzeuge über 12 m Länge.

- 65 **Was ist vor Inbetriebnahme einer Flüssiggasanlage zu prüfen?**
- Die Abnahme der Anlage darf nicht länger als drei Jahre zurückliegen. Haupthahn und andere Absperrventile sind zu öffnen.
 - Die Anlage muss abgenommen sein, die Inbetriebnahme darf nur durch eine besonders geprüfte Person erfolgen.
 - Die Anlage muss abgenommen sein und jährlich überprüft werden. Die Inbetriebnahme darf nur durch eine besonders geprüfte Person erfolgen.
 - Die Anlage muss abgenommen sein, Leitungen und Anschlüsse müssen dicht sein. Haupthahn und andere Absperrventile sind zu öffnen.

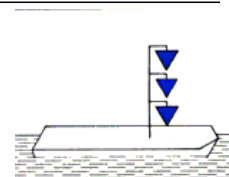
- 117 **Welche Bedeutung haben vor einer Schleuse ein rotes oder ein rotes und ein grünes Licht?**
- Einfahrt verboten, Öffnen der Schleuse wird vorbereitet.
 - Ausfahrt verboten, schließen der Schleuse wird vorbereitet.
 - Ausfahrt verboten, Öffnen der Schleuse wird vorbereitet.
 - Einfahrt verboten, schließen der Schleuse wird vorbereitet.

- 154 **Was bedeuten diese Sichtzeichen?**



- Festgefahrenes oder gesunkenes Fahrzeug. Vorbeifahrt an der Steuerbordseite gestattet. Sog und Wellenschlag vermeiden.
- Schwimmendes Gerät bei der Arbeit. Vorbeifahrt nicht gestattet.
- Schwimmendes Gerät bei der Arbeit. Vorbeifahrt an jeder Seite gestattet.
- Festgefahrenes oder gesunkenes Fahrzeug. Vorbeifahrt nicht gestattet.

- 131 **Was bedeutet dieses Sichtzeichen?**



- Fahrzeug hat explosive Stoffe geladen, Abstand beim Stillliegen 100 m.
- Fahrzeug hat brennbare Stoffe geladen, Abstand beim Stillliegen 10 m.
- Fahrzeug der Überwachungsbehörden im Einsatz.
- Fahrzeug hat gesundheitsschädliche Stoffe geladen, Abstand beim Stillliegen 50 m

- 64 **Was ist zu tun, wenn Flüssiggas in das Innere des Bootes gelangt?**

- Gasleitung entleeren und für Lüftung sorgen. Außerdem keine elektrischen Schalter betätigen und keine Telefone benutzen.
- Gaszuführung absperren und für Lüftung sorgen. Außerdem keine elektrischen Schalter betätigen und keinen Funk und keine Mobiltelefone benutzen.
- Gaszuführung absperren und für Lüftung sorgen. Außerdem keine elektrischen Schalter betätigen und per Telefon Hilfe holen.
- Gasleitung entleeren und die Gasfreiheit mit dem Feuerzeug prüfen sowie über Funk oder Mobiltelefon Hilfe anfordern

- 200 **Was bedeutet dieses Tafelzeichen?**



- 10 km/h Höchstgeschwindigkeit gegenüber dem Ufer.
- 10 km/h Höchstgeschwindigkeit gegenüber der Strömung.
- 10 km/h Höchstgeschwindigkeit für Kleinfahrzeuge.
- 10 km/h für größere Fahrzeuge.

53 **Die Temperatur der Antriebsmaschine überschreitet die zulässigen Grenzwerte. Was könnte die mögliche Ursache sein?**

- Defektes Thermostat, defekte Impellerpumpe, geschlossenes Seeventil, zu niedriger Kühlwasserstand.
- Defektes Thermostat, defekte Kupplung, geschlossenes Seeventil, zu niedriger Kühlwasserstand.
- Zu viel Motoröl, defekte Impellerpumpe, geschlossenes Seeventil, zu niedriger Kühlwasserstand.
- Defektes Thermostat, defekte Impellerpumpe, geschlossenes Seeventil, zu hohe Batteriespannung.

165 **Was bedeutet dieses Schallsignal? (- - ••)**

- Überholen an der Backbordseite des Vorausfahrenden.
- Überholen an der Steuerbordseite des Vorausfahrenden.
- Hafen oder Nebenwasserstraße; Ein-oder Ausfahrt mit Kursänderung nach Backbord.
- Hafen oder Nebenwasserstraße; Ein-oder Ausfahrt mit Kursänderung nach Steuerbord.

156 **Was bedeutet dieses Tafelzeichen?**



- Gesperrte Wasserfläche, für Kleinfahrzeuge nicht befahrbar.
- Gesperrte Wasserfläche, jedoch für Kleinfahrzeuge ohne Antriebsmaschine befahrbar.
- Gesperrte Wasserfläche, jedoch für Kleinfahrzeuge ohne laufende Antriebsmaschine befahrbar.
- Gesperrte Wasserfläche, Verbot der Durchfahrt und Sperrung der Schifffahrt.

220 **Welches Wetter ist zu erwarten, wenn der Luftdruck langsam, aber stetig steigt?**

- Besseres Wetter, Sonne.
- Besseres Wetter, steigende Temperatur.
- Schlechtes Wetter, Starkwind oder Sturm.
- Schlechtes Wetter ist nicht zu erwarten.

166 **Was bedeutet dieses Schallsignal? (- - - •)**

- Hafen oder Nebenwasserstraße; Ein-oder Ausfahrt mit Kursänderung nach Backbord.
- Überholen an der Backbordseite des Vorausfahrenden.
- Überholen an der Steuerbordseite des Vorausfahrenden.
- Hafen oder Nebenwasserstraße; Ein-oder Ausfahrt mit Kursänderung nach Steuerbord.

173 **Wo kann man von bestehenden Höchstgeschwindigkeiten auf den Binnenschiffahrtsstraßen Kenntnis erhalten?**

- In der Binnenschifferpatentverordnung, bei der Wasserstraßen-und Schifffahrtsverwaltung und der Wasserschutzpolizei.
- In der Binnenschiffahrtsstraßen-Ordnung, bei der Wasserstraßen-und Schifffahrtsverwaltung und der Wasserschutzpolizei.
- In der Binnenschiffsuntersuchungs-Ordnung, bei der Wasserstraßen-und Schifffahrtsverwaltung und der Wasserschutzpolizei.
- In der Sportbootführerscheinverordnung, bei der Wasserstraßen-und Schifffahrtsverwaltung und der Wasserschutzpolizei.

Lösungsbogen für DLRG-Bootsführerschein A (Amtlicher Teil)

138

114

97

115

144

160

61

148

150

3

241

104

210

102

163

14

133

18

65

117

154

131

64

200

53

165

156

220

166

173